














Наименование образовательной организации: ГБОУ Школа № 1741, г. Москва





































Название культурно-познавательного маршрута: *«Реет олимпийский огонь золотой...»*

Возраст обучающихся: 13-14 лет

Вопросы для обучающихся, освоивших предложенный культурно-познавательный маршрут

№	Вопрос	Ответ
1	<p>На церемонии открытия игр делегации идут в алфавитном порядке по названию стран и только Греция нарушает этот порядок. Почему?</p> 	<p>Во время Парада наций на церемониях открытия Олимпийских игр Грецию всегда называют первой из-за статуса основателя античных Игр, являющихся прообразом современных Олимпиад.</p>
2	<p>В каком году и где прошли XXII летние Олимпийские игры? А) 1956 в Мельбурне Б) 1980 в Москве В) 1988 в Сеуле</p>	<p>Б) 1980 году в Москве</p>
3	<p>На закрытии XXII летних Олимпийских игр 24 воздушных шара подняли восьмиметровую куклу над «Лужниками». Помахав зрителям лапой, талисман медленно уплыл в вечернее небо. Что это за талисман? А) Рысь Б) Заяц В) Медведь</p>	<p>В) Медвежонок Миша - талисман XXII летних Олимпийских игр, проходивших в 1980 году в Москве.</p>
4	<p>Когда талисман стал обязательным атрибутом Олимпийских игр? А) 1968 Б) 1972 В) 1980</p>	<p>Б) 1972 год</p>
5	<p>Прочитай диалог жителей разных стран. В какой стране, в каком городе и когда прошли первые зимние Олимпийские игры. По 1992-й год зимние Олимпийские игры проводились через 4 года.</p> <p><i>Жюль: Я живу во Франции, в нашей стране были проведены самые первые зимние Олимпийские игры.</i></p> <p><i>Тисли: Да, и эстафетная палочка зимних Олимпийских игр была передана нам. Швейцарцы очень гостеприимные люди, поэтому мы принимали гостей зимней Олимпиады два раза. Второй раз в 1948 году.</i></p>	<p>Франция, Шамони, 1924 год</p>

	<p>Ганс: <i>А наши Игры были четвёртыми, мы встречали спортсменов разных стран в городе с очень сложным названием Гармиш-Партенкирхен. (1936 г.)</i></p> <p>Жюль: <i>Я был в этом городе. Он находится в Германии.</i></p> <p>Тисли: <i>А наша Олимпиада была в замечательном городе Санкт-Мориц.</i></p> <p>Жюль: <i>Зимние Олимпиады проходят в красивейших городах мира. Один из них Шамони – хозяин первой Олимпиады.</i></p>													
6	<p>Соотнеси название олимпийского объекта в Сочи и букву, под которой он показан на рисунке.</p> <table border="1" data-bbox="300 622 1177 1193"> <thead> <tr> <th data-bbox="300 622 632 734">Название олимпийского объекта</th> <th data-bbox="632 622 1177 734">Вид объекта</th> </tr> </thead> <tbody> <tr> <td data-bbox="300 734 632 1193"> 1. Олимпийский стадион «Фишт» 2. Ледовый дворец «Большой» 3. Ледовая арена «Шайба» </td> <td data-bbox="632 734 1177 1193">  </td> </tr> </tbody> </table>	Название олимпийского объекта	Вид объекта	1. Олимпийский стадион «Фишт» 2. Ледовый дворец «Большой» 3. Ледовая арена «Шайба»		1Г 2Е 3Д								
Название олимпийского объекта	Вид объекта													
1. Олимпийский стадион «Фишт» 2. Ледовый дворец «Большой» 3. Ледовая арена «Шайба»														
7	<p>Эстафета олимпийского огня «Сочи 2014» является самой продолжительной и масштабной в истории зимних Олимпийских игр. Олимпийский огонь побывал на дне озера Байкал, на Авачинской сопке, в точке географические координаты которой: 90°00'00" северной широты, а долготы она не имеет. Как называется точка с такими координатами?</p>	Северный полюс												
8	<p>С какого года летние и зимние Олимпийские игры проходят отдельно?</p> <p>А) 1924 Б) 1936 В) 1940</p>	А) 1924 год												
9	<p>Укажи правильное соответствие: пиктограмма - вид спорта.</p> <table border="1" data-bbox="347 1630 1139 2060"> <thead> <tr> <th data-bbox="347 1630 432 1664">№</th> <th data-bbox="432 1630 788 1664">Пиктограмма</th> <th data-bbox="788 1630 1139 1664">Вид спорта</th> </tr> </thead> <tbody> <tr> <td data-bbox="347 1664 432 1794">1</td> <td data-bbox="432 1664 788 1794">  </td> <td data-bbox="788 1664 1139 1794">Академическая гребля</td> </tr> <tr> <td data-bbox="347 1794 432 1924">2</td> <td data-bbox="432 1794 788 1924">  </td> <td data-bbox="788 1794 1139 1924">Большой теннис</td> </tr> <tr> <td data-bbox="347 1924 432 2060">3</td> <td data-bbox="432 1924 788 2060">  </td> <td data-bbox="788 1924 1139 2060">Синхронное плавание</td> </tr> </tbody> </table>	№	Пиктограмма	Вид спорта	1		Академическая гребля	2		Большой теннис	3		Синхронное плавание	3
№	Пиктограмма	Вид спорта												
1		Академическая гребля												
2		Большой теннис												
3		Синхронное плавание												

<p>10</p>	<p>Соотнесите талисман игр в Сочи и вид спорта</p> <table border="1" data-bbox="392 226 1099 808"> <thead> <tr> <th data-bbox="392 226 453 264">№</th> <th data-bbox="453 226 756 264">Талисман</th> <th data-bbox="756 226 815 264"></th> <th data-bbox="815 226 1099 264">Вид спорта</th> </tr> </thead> <tbody> <tr> <td data-bbox="392 264 453 450">1</td> <td data-bbox="453 264 756 450">  </td> <td data-bbox="756 264 815 450">А</td> <td data-bbox="815 264 1099 450">  </td> </tr> <tr> <td data-bbox="392 450 453 636">2</td> <td data-bbox="453 450 756 636">  </td> <td data-bbox="756 450 815 636">Б</td> <td data-bbox="815 450 1099 636">  </td> </tr> <tr> <td data-bbox="392 636 453 808">3</td> <td data-bbox="453 636 756 808">  </td> <td data-bbox="756 636 815 808">В</td> <td data-bbox="815 636 1099 808">  </td> </tr> </tbody> </table>	№	Талисман		Вид спорта	1		А		2		Б		3		В		<p>1Б; 2В; 3А</p>
№	Талисман		Вид спорта															
1		А																
2		Б																
3		В																
<p>11</p>	<p>Где побывал <i>сочинский</i> олимпийский огонь? А) Эребус Б) Эльбрус В) Эверест</p>	<p>Б) Эльбрус</p>																
<p>12</p>	<p>Определите, какой из перечисленных видов спорта лишний, и назовите общий признак для четырех видов спорта в логическом ряду. Керлинг-биатлон- бобслей- лыжные гонки -гольф</p>	<p>Гольф. Все остальные зимние виды спорта.</p>																
<p>13</p>	<p>Используя эмблемы Олимпийских игр, определите, на каком материке проходили зимние Олимпийские игры? А) Евразия Б) Южная Америка В) Северная Америка</p> <table border="1" data-bbox="336 1256 1158 1599"> <tr> <td data-bbox="336 1256 576 1599">  </td> <td data-bbox="576 1256 879 1599">  </td> <td data-bbox="879 1256 1158 1599">  </td> </tr> </table>				<p>А) Евразия</p>													
																		
<p>14</p>	<p>На всех эмблемах Олимпийских игр присутствует один и тот же символ. Какой? А) оливковая ветвь Б) огонь В) кольца</p>	<p>В) Кольца</p>																
<p>15</p>	<p>Какой вид спорта обозначает пиктограмма под номером 3? А) конкур Б) конное троеборье В) конная выездка</p> <table data-bbox="368 1877 1086 1986"> <tr> <td data-bbox="368 1877 528 1986"> <p>1</p>  </td> <td data-bbox="528 1877 847 1986"> <p>2</p>  </td> <td data-bbox="847 1877 1086 1986"> <p>3</p>  </td> </tr> </table>	<p>1</p> 	<p>2</p> 	<p>3</p> 	<p>А) Конкур</p>													
<p>1</p> 	<p>2</p> 	<p>3</p> 																

Список источников информации:

- http://www.vetkzn.ru/konnyi_sport/horsesports/
- https://ru.wikipedia.org/wiki/%D0%AD%D1%81%D1%82%D0%B0%D1%84%D0%B5%D1%82%D0%B0_%D0%BE%D0%BB%D0%B8%D0%BC%D0%BF%D0%B8%D0%B9%D1%81%D0%BA%D0%BE%D0%B3%D0%BE_%D0%BE%D0%B3%D0%BD%D1%8F_%D0%B7%D0%B8%D0%BC%D0%BD%D0%B8%D1%85_%D0%9E%D0%BB%D0%B8%D0%BC%D0%BF%D0%B8%D0%B9%D1%81%D0%BA%D0%B8%D1%85_%D0%B8%D0%B3%D1%80_2014
- <https://www.mos.ru/news/item/77840073/>
- <http://www.ambasadarusije.rs/ru/strana/talismani-zimnih-olimpiiskih-igr-2014>
- <https://tass.ru/info/4941647>
- <https://sch1741.mskobr.ru/#/>

